

Evaluación para el Acceso a la Universidad

Convocatoria de 2017

Materia: **GEOGRAFÍA**



Instrucciones: Este examen consta de dos opciones, opción A y B. El alumno deberá contestar **sólo a una de ellas**. Como criterio general de corrección para el conjunto de la prueba se valorará la presentación, la ortografía y la redacción.

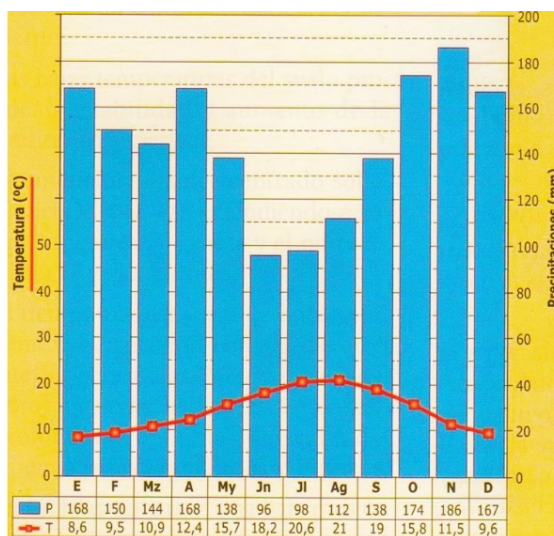
OPCIÓN A

I. PRÁCTICA (Puntuación: 3 puntos. En esta pregunta, además de los contenidos, se valorará la presentación, coherencia, estructura y estilo de la respuesta, además de la ortografía)

Comente el siguiente climograma contestando a las siguientes cuestiones:

- 1.- Evolución de las temperaturas y las precipitaciones a lo largo del año.
- 2.- Tipo de clima al que pertenece. ¿A qué ciudad o zona cree que corresponde?
- 3.- Mencione qué situaciones de la dinámica general de la atmósfera pueden afectar a esta zona.

Altitud (m): 8
Latitud: 43° 21' 24" N
Longitud: 01° 47' 25" O
Temperatura media anual: 14,4° C
Precipitación media anual: 1.738 mm



II. TEMA (Puntuación: 3 puntos. En esta pregunta, además de los contenidos, se valorará la presentación, coherencia, estructura y estilo de la respuesta, además de la ortografía)

Desarrolle el siguiente tema:

La red urbana española. Características y condicionantes de la red urbana. La jerarquía urbana. Las funciones urbanas. La sociedad, la cultura urbana y los problemas de las ciudades.

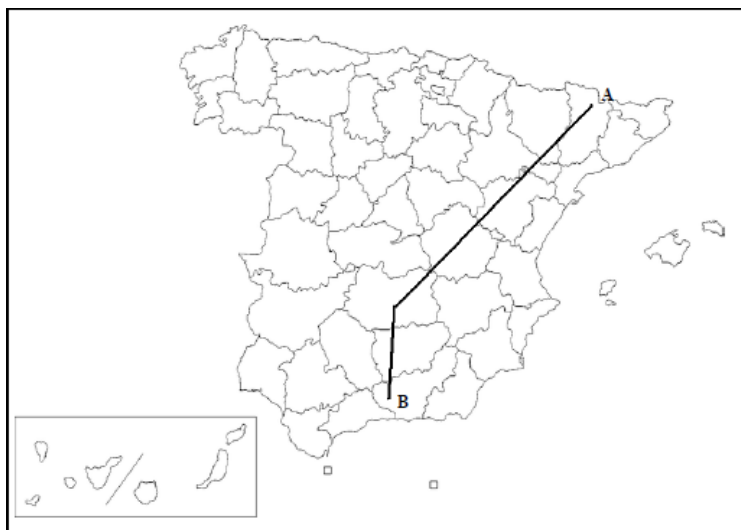
III. CONCEPTOS (Puntuación: 2 puntos)

Defina con la mayor precisión posible, y de forma breve, estos cuatro conceptos e indique, siempre y cuando sea posible, un ejemplo relativo a España o a Castilla-La Mancha:

PAC; población activa; marisma; landa

IV. LOCALIZACIÓN (Puntuación: 2 puntos)

Cite las unidades del relieve, ríos y provincias que atraviesa la línea desde "A" hasta "B"



Evaluación para el Acceso a la Universidad

Convocatoria de 2017

Materia: **GEOGRAFÍA**



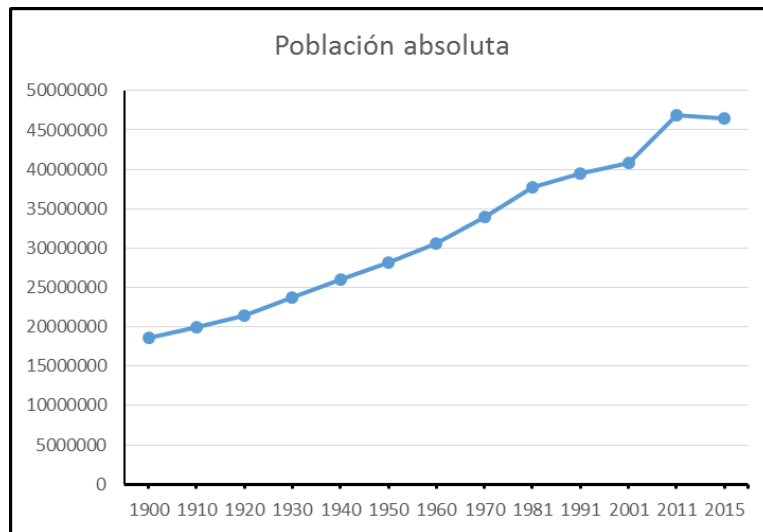
Instrucciones: Este examen consta de dos opciones, opción A y B. El alumno deberá contestar **sólo a una de ellas**. Como criterio general de corrección para el conjunto de la prueba se valorará la presentación, la ortografía y la redacción.

OPCIÓN B

I. PRÁCTICA (Puntuación: 3 puntos. En esta pregunta, además de los contenidos, se valorará la presentación, coherencia, estructura y estilo de la respuesta, además de la ortografía)

Comente el siguiente gráfico de evolución de la población en España (1900 – 2015), respondiendo a las siguientes cuestiones:

- 1.- *Evolución de la población en España.*
- 2.- *Factores que influyen en el crecimiento demográfico a lo largo del siglo XX.*
- 3.- *Factores que influyen en el estancamiento 2011-2015.*



II. TEMA (Puntuación: 3 puntos. En esta pregunta, además de los contenidos, se valorará la presentación, coherencia, estructura y estilo de la respuesta, además de la ortografía)

Desarrolle el siguiente tema:

Historia geológica y relieves morfoestructurales: zócalos, macizos antiguos, cuencas sedimentarias, cordilleras de plegamiento.

III. CONCEPTOS (Puntuación: 2 puntos)

Defina con la mayor precisión posible, y de forma breve, estos cuatro conceptos e indique, siempre y cuando sea posible, un ejemplo relativo a España o a Castilla-La Mancha:

Reconversión industrial; latifundio; meridiano; frente

IV. LOCALIZACIÓN (Puntuación: 2 puntos)

Cite las unidades del relieve, ríos y provincias que atraviesa la línea desde "A" hasta "B"

